



**SECRETARIA MUNICIPAL DE EDUCAÇÃO
ATIVIDADES COMPLEMENTARES DE ESTUDO – COVID 19**

**ROTEIRO DE ATIVIDADES COMPLEMENTARES DE ESTUDO – COVID 19
4º ROTEIRO**

ESCOLA MUNICIPAL PARIGOT DE SOUZA

PROFESSOR: CELIA VERRI E SUELI DUTRA

TURMA: SRM – GRUPO 2

COMPONENTES CURRICULARES: LÍNGUA PORTUGUESA E MATEMÁTICA

PERÍODO DE REALIZAÇÃO: 18/05/2020 A 22/05/2020

<p>OLÁ, QUERIDO (A) ALUNO (A)! SEGUIE O 4º ROTEIRO DE ATIVIDADES PARA VOCÊ REALIZAR. OUÇA O ÁUDIO/VÍDEO EXPLICATIVO QUE ESTÁ DISPONÍVEL EM NOSSO GRUPO ANTES DE REALIZAR AS ATIVIDADES. LEIA TUDO COM BASTANTE ATENÇÃO E PEÇA AJUDA DE ALGUÉM DA SUA FAMÍLIA OU DA PROFESSORA PELO WHATSAPP SEMPRE QUE PRECISAR.</p>	
<p>O QUE VOCÊ VAI ESTUDAR:</p>	<p>LÍNGUA PORTUGUESA: LEITURA E COMPREENSÃO. SISTEMA DE ESCRITA ALFABÉTICO.</p> <p>MATEMÁTICA: DECOMPOSIÇÃO, SEQUÊNCIA NUMÉRICA, ADIÇÃO.</p>
<p>PARA QUE VAMOS ESTUDAR ESSES CONTEÚDOS?</p>	<ul style="list-style-type: none">• DESENVOLVER A ATENÇÃO E O RACIOCÍNIO.• ESCREVER PALAVRAS E FRASES.• RECONHECER RIMAS.• REALIZAR SEPARAÇÃO DE SÍLABAS.• REALIZAR CONTAGEM.
<p>COMO VAMOS ESTUDAR OS CONTEÚDOS?</p>	<ul style="list-style-type: none">• ORGANIZE SEUS ESTUDOS!• EM SEU CADERNO COLOQUE A DATA/CABEÇALHO COMPLETO EM QUE IRÁ REALIZAR AS ATIVIDADES.• PRESTE ATENÇÃO NOS COMANDOS AO LADO DE CADA ATIVIDADE, QUE ESTARÁ INDICANDO COMO VOCÊ DEVERÁ FAZER CADA ATIVIDADE.

RELEMBRE O
QUE É RIMA.



FAÇA A
LEITURA COM
ATENÇÃO.

LÍNGUA PORTUGUESA

1- LEIA A PARLENDIA COM ATENÇÃO E PINTE COM SUA COR PREFERIDA A PALAVRA QUE RIMA COM **COTIA**.

LEMBRETE: PARA DUAS PALAVRAS RIMAREM, ELAS PRECISAM TER OS FINAIS PARECIDOS.

**EXEMPLO: AVIÃO – SABÃO
PAPEL - PASTEL**



CORRE COTIA
NA CASA DA TIA
CORRE CIPÓ
NA CASA DA VÓ
EU TINHA UM CACHORRINHO CHAMADO TOTÓ
ELE LATE, ELE PULA DE UMA PERNA SÓ
LENCINHO NA MÃO
CAIU NO CHÃO
MOÇA BONITA
DO MEU CORAÇÃO
POSSO JOGAR?
NINGUÉM VAI OLHAR?



**SECRETARIA MUNICIPAL DE EDUCAÇÃO
ATIVIDADES COMPLEMENTARES DE ESTUDO – COVID 19**

2- ENCONTRE NA PARLENDAS AS PALAVRAS QUE RIMAM COM **MÃO** E ESCREVA-AS NOS ESPAÇOS ABAIXO:

--	--

3- SEPRE AS SÍLABAS DAS PALAVRAS A SEGUIR:

CASA

CA

SA

CIPÓ

--	--

--	--

TOTÓ

--	--

--	--

MOÇA

--	--

--	--

CORAÇÃO

--	--

--	--

--	--

LENCINHO

--	--

--	--

--	--

4- PREENCHA O QUADRO ABAIXO:

AS VOGAIS
SÃO:
A – E – I – O – U

AS DEMAIS
LETRAS DO
ALFABETO SÃO
CHAMADAS DE
CONSOANTES.

PALAVRA	LETRA INICIAL	LETRA FINAL	VOGAIS	CONSOANTES
COTIA	C	A	O-I-A	C-T
CASA				
PULA				
PERNA				

















**SECRETARIA MUNICIPAL DE EDUCAÇÃO
ATIVIDADES COMPLEMENTARES DE ESTUDO – COVID 19**

5- ESCOLHA 2 PALAVRAS DA PARLENDIA “CORRE COTIA” E FORME FRASES.

MATEMÁTICA

1- OBSERVE OS NÚMEROS QUE FALTAM NO QUADRO E ESCREVA-OS. FAÇA COMO NO EXEMPLO:

1	2	3	4		6	7	8		10
11	12		14	15	16	17	18	19	
20	21	22		24	25		27	28	29
30		32	33	34		36	37	38	
	41	42		44	45	46	47	48	49
	51	52	53	54		56	57		59
60									

CADA DESENHO ESTÁ NO LUGAR DE UM NÚMERO. ESCREVA QUAL É.

	5		_____		_____
	_____		_____		
	_____		_____		
	_____		_____		
	_____		_____		
	_____		_____		

**SECRETARIA MUNICIPAL DE EDUCAÇÃO
ATIVIDADES COMPLEMENTARES DE ESTUDO – COVID 19**

2- DECOMPONHA OS NUMERAIS COMO NO MODELO:

A) $189 = 100 + 80 + 9$

B) $95 =$ _____

C) $126 =$ _____

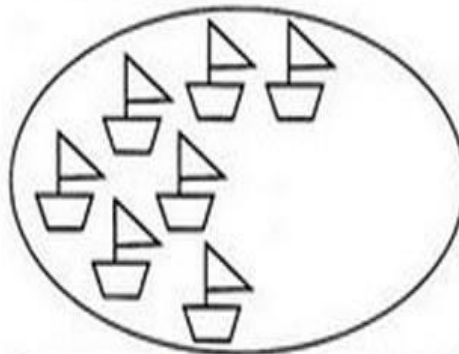
D) $157 =$ _____

E) $248 =$ _____

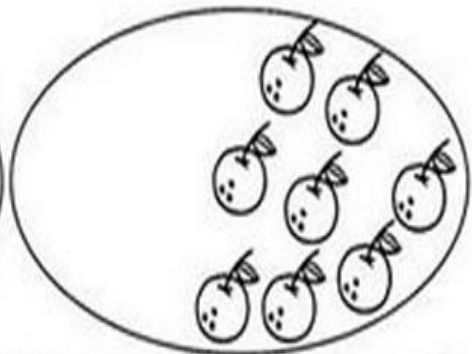
F) $89 =$ _____

3- COMPLETE OS ELEMENTOS DE CADA CONJUNTO PARA QUE TODOS FIQUEM COM 10 ELEMENTOS.

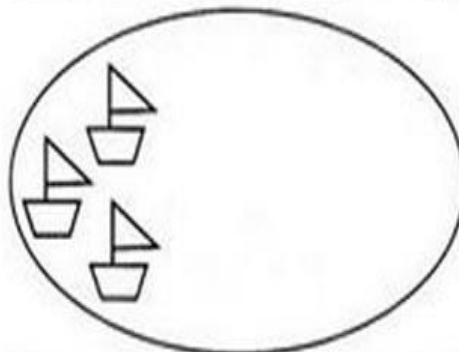
DESENHE
SOMENTE AS
QUANTIDADES
QUE FALTAM
PARA
COMPLETAR
10.



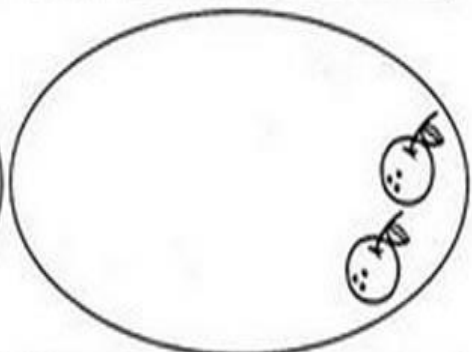
Eram _____. Desenhei mais _____.
Ficaram _____ elementos.



Eram _____. Desenhei mais _____.
Ficaram _____ elementos.



Eram _____. Desenhei mais _____.
Ficaram _____ elementos.




Eram _____. Desenhei mais _____.
Ficaram _____ elementos.

**SECRETARIA MUNICIPAL DE EDUCAÇÃO
ATIVIDADES COMPLEMENTARES DE ESTUDO – COVID 19**

4- AGORA, COMPLETE AS OPERAÇÕES COM OS NUMERAIS QUE FALTAM:

$7 + \heartsuit = 10$	$8 + 2 = \heartsuit$
$\heartsuit + 7 = 10$	$2 + \heartsuit = 10$



**COMO VAMOS
REGISTRAR O
QUE
APRENDEMOS
?**

EM SEU CADERNO, ESCREVA QUAL É SUA BRINCADEIRA FAVORITA, COMO SE BRINCA E COM QUEM VOCÊ GOSTA DE BRINCAR.